

ใบงานที่ 3.3 เรื่อง เส้น ภาพฉายและภาพ 3 มิติ

หน่วยการเรียนรู้ที่ 3 เรื่อง การออกแบบและเขียนแบบงานช่าง	จำนวน 8 ชั่วโมง
รายวิชา ง30297 งานช่างพื้นฐาน	จำนวน 1.0 นก. เวลาเรียน 2 ชม./สัปดาห์
กลุ่มสาระการเรียนรู้ การงานอาชีพ	ชั้นมัธยมศึกษาตอนปลาย

1. ภาพฉาย คือ.....

.....

.....

.....

.....

.....

.....

.....

.....

2. ภาพฉาย จะต้องเขียน จำนวนภาพ ได้แก่

2.1

2.2

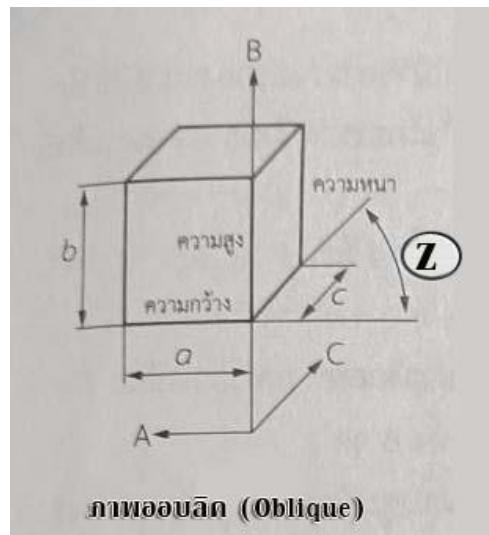
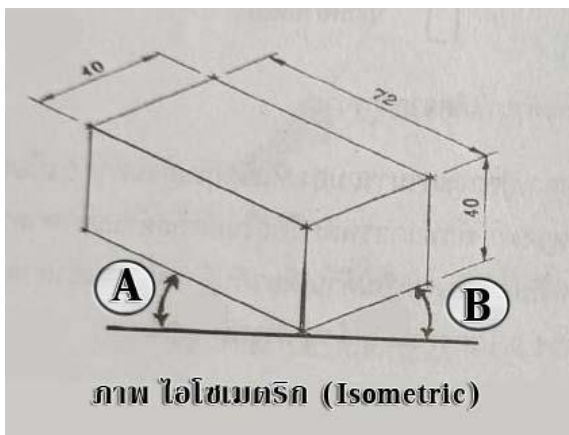
2.3

3. จากภาพ 3 มิติ ดังรูป อยากรทราบ ว่า มุม ที่ใช้ในการเขียน ภาพ 3 มิติ ดังกล่าว ใช้มุม ขนาดเท่าใด

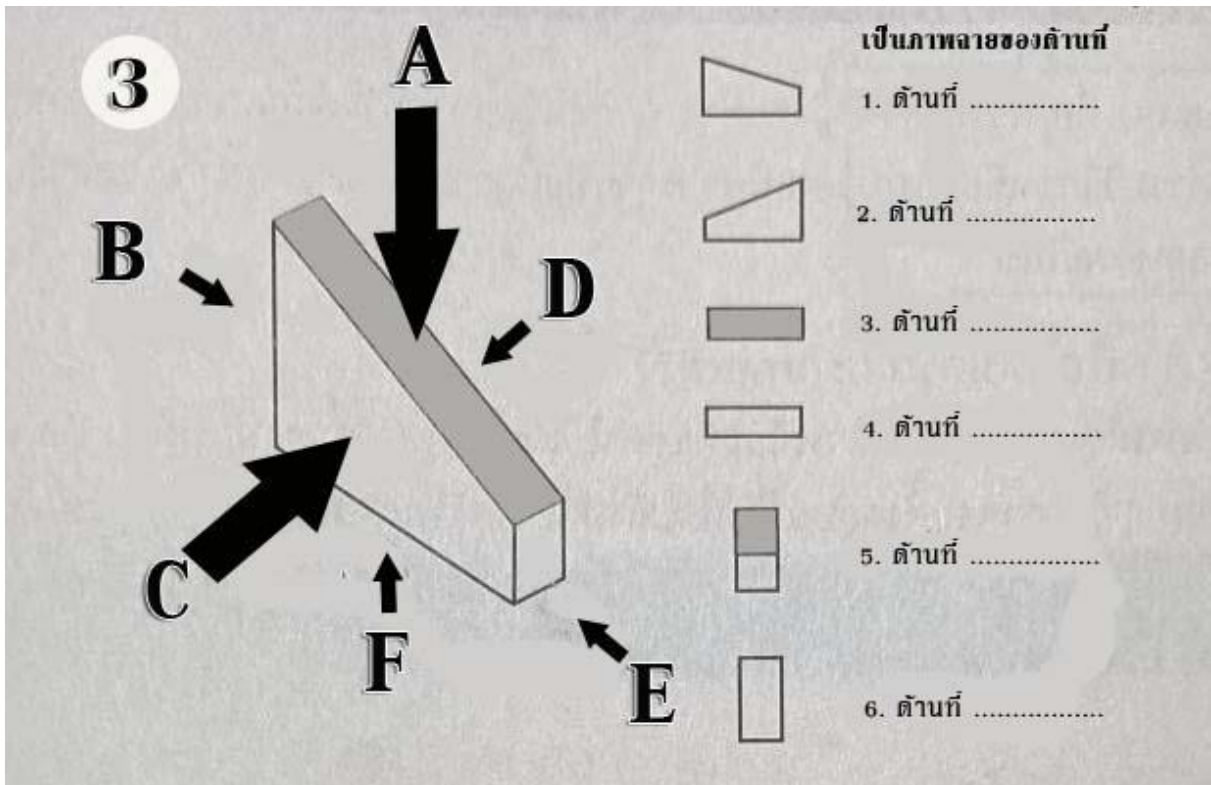
1. มุม A เท่ากับองศา

2. มุม B เท่ากับองศา

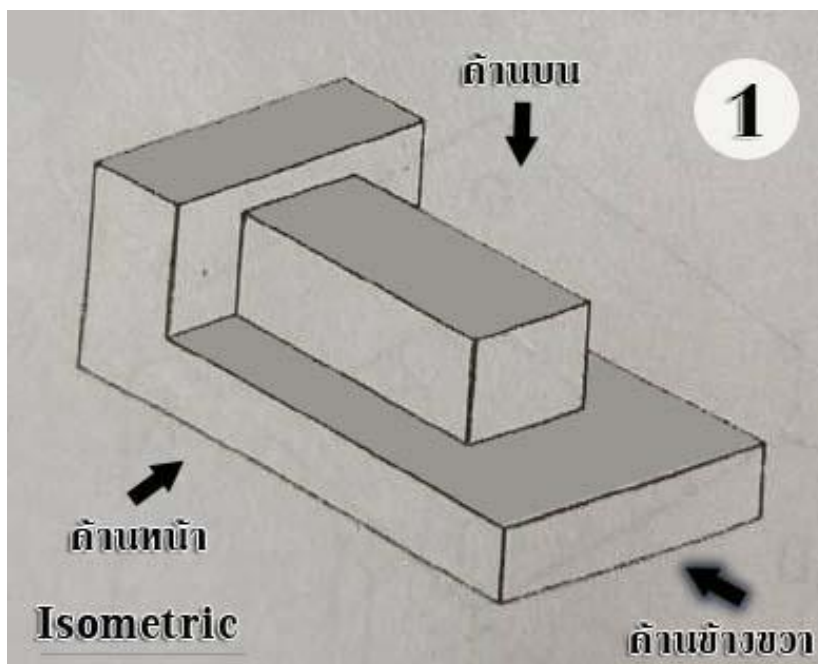
3. มุม Z เท่ากับองศา



4. ให้นักเรียน บอก ภาพฉาย ที่เกิดขึ้น จากวัตถุ ที่กำหนดให้



5. ให้นักเรียน เขียน ภาพฉาย ที่เกิดขึ้น จากวัตถุ หมายเลข 1 ที่กำหนดให้



6. ให้นักเรียน เขียน ภาพฉาย ที่เกิดขึ้น จากวัตถุ หมายเลข 2 ที่กำหนดให้

