

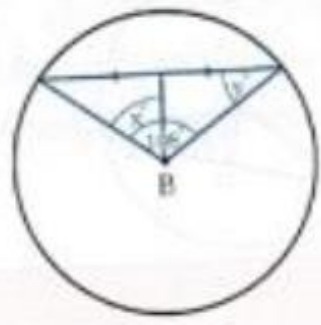
แบบทดสอบ 5

1. จากวงกลมที่กำหนดจุดศูนย์กลางมาให้ จงหาค่า x และ y

1)



2)



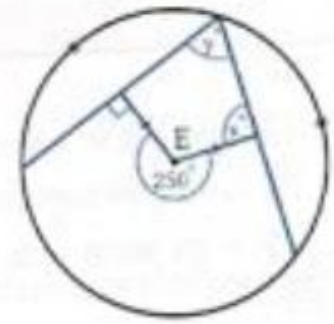
3)



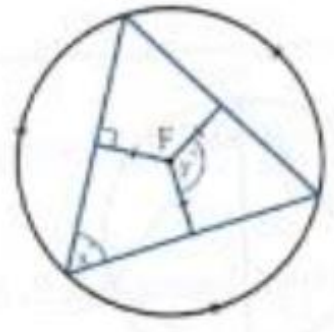
4)



5)

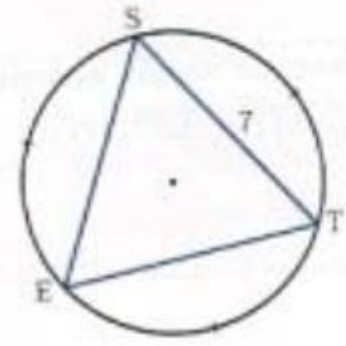


6)

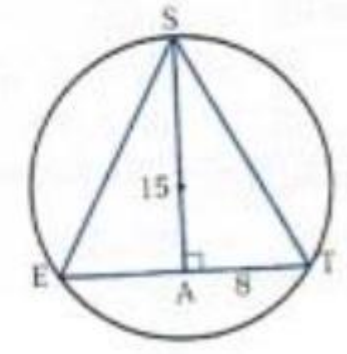


2. จากวงกลมที่กำหนดจุดศูนย์กลางมาให้ จงหาความยาวรอบรูป $\triangle SET$

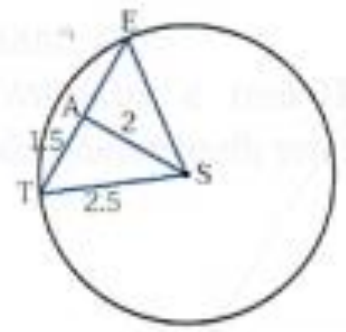
1)



2)



3)



4)

